

Nº de Orden APELLIDOS Y NOMBRE: _____
 D.N.I.: _____ Centro: _____
 Sede nº: _____ de la Universidad de _____
 Fecha: En _____ a _____ de _____ de 2017

(cumplimentar tribunal)

Código de identificación
o
Nº de identificación

(a cumplimentar por el alumno)

OPCIÓN A

Nº de Orden (cumplimentar tribunal)	CALIFICACIÓN	REVISIÓN			Código de identificación (a cumplimentar por el alumno)
		2ª NOTA	3ª NOTA	CALIFICACIÓN	
CORRECTOR →					

Instrucciones:

- a) Tiempo de duración de la prueba: 1 hora 30 minutos.
- b) El alumno elegirá y desarrollará en su totalidad una de las dos opciones. En ningún caso podrá combinar ambas opciones.
- c) Los problemas y ejercicios deben resolverse exclusivamente en los formatos facilitados, realizando cada uno de ellos en su correspondiente hoja.
- d) La puntuación total y las correspondientes a los distintos apartados, si los hubiere, están indicadas en cada uno de los respectivos problemas y ejercicios.
- e) La ejecución del dibujo se hará únicamente con lápiz de grafito, pudiéndose usar distintos grosores y durezas de minas.
- f) Para la realización de la prueba el alumno utilizará, como mínimo, el siguiente material de dibujo:
 - Lápices de grafito o portaminas.
 - Afilaminas.
 - Goma de borrar.
 - Escuadra y cartabón.
 - Regla graduada o escalímetro.
 - Compás.
- g) Además de los útiles mencionados, se permitirá el uso de plantillas, transportador de ángulos, un tablero tamaño A-3 con su correspondiente paralelógrafo y se permitirá el uso de calculadoras que no sean programables, gráficas ni con capacidad para almacenar o transmitir datos.



UNIVERSIDAD DE GRANADA
PRUEBA DE ACCESO Y ADMISIÓN A LA UNIVERSIDAD
TERRITORIO DEL MINISTERIO DE EDUCACIÓN
CULTURA Y DEPORTE

CURSO 2016 - 2017

DIBUJO TÉCNICO II

Nº de Orden <small>(cumplimentar tribunal)</small>	APELLIDOS Y NOMBRE: _____		Código de identificación <small>(a cumplimentar por el alumno)</small>
	D.N.I.: _____	Centro: _____	
	Sede nº: _____ de la Universidad de _____		
	Fecha: En _____ a _____ de _____ de 2017		

OPCIÓN A

Nº de Orden <small>(cumplimentar tribunal)</small>	CALIFICACIÓN	REVISIÓN			Código de identificación <small>(a cumplimentar por el alumno)</small>
		2ª NOTA	3ª NOTA	CALIFICACIÓN	
CORRECTOR ⇒					

Instrucciones:

- a) Tiempo de duración de la prueba: 1 hora 30 minutos.
- b) El alumno elegirá y desarrollará en su totalidad una de las dos opciones. En ningún caso podrá combinar ambas opciones.
- c) Los problemas y ejercicios deben resolverse exclusivamente en los formatos facilitados, realizando cada uno de ellos en su correspondiente hoja.
- d) La puntuación total y las correspondientes a los distintos apartados, si los hubiere, están indicadas en cada uno de los respectivos problemas y ejercicios.
- e) La ejecución del dibujo se hará únicamente con lápiz de grafito, pudiéndose usar distintos grosores y durezas de minas.
- f) Para la realización de la prueba el alumno utilizará, como mínimo, el siguiente material de dibujo:
 - Lápices de grafito o portaminas.
 - Afilaminas.
 - Goma de borrar.
 - Escuadra y cartabón.
 - Regla graduada o escalímetro.
 - Compás.
- g) Además de los útiles mencionados, se permitirá el uso de plantillas, transportador de ángulos, un tablero tamaño A-3 con su correspondiente paralelógrafo y se permitirá el uso de calculadoras que no sean programables, gráficas ni con capacidad para almacenar o transmitir datos.

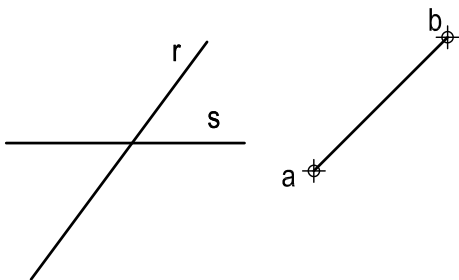
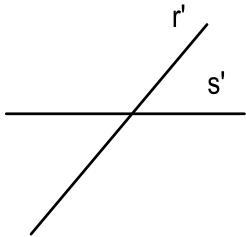
OPCIÓN A

PROBLEMA: SISTEMA DIÉDRICO.

Dada la proyección horizontal de un segmento AB, así como las proyecciones de las rectas R y S, se pide:

1. Representar las proyecciones del hexágono regular ABCDEF, sabiendo que se encuentra contenido en el plano horizontal de proyección y en el primer diedro.
2. Dibujar las proyecciones de la pirámide regular de base ABCDEF y altura 60 mm, siendo su vértice el punto V.
3. Determinar las trazas del plano P definido por las rectas R y S.
4. Trazar las proyecciones de la sección producida por P en la pirámide.
5. Obtener la verdadera magnitud de la sección.
6. Responda a este apartado en la línea que se indica debajo del perforado de la hoja.

6. Indique la verdadera magnitud de la arista VA, _____ mm



Puntuación:

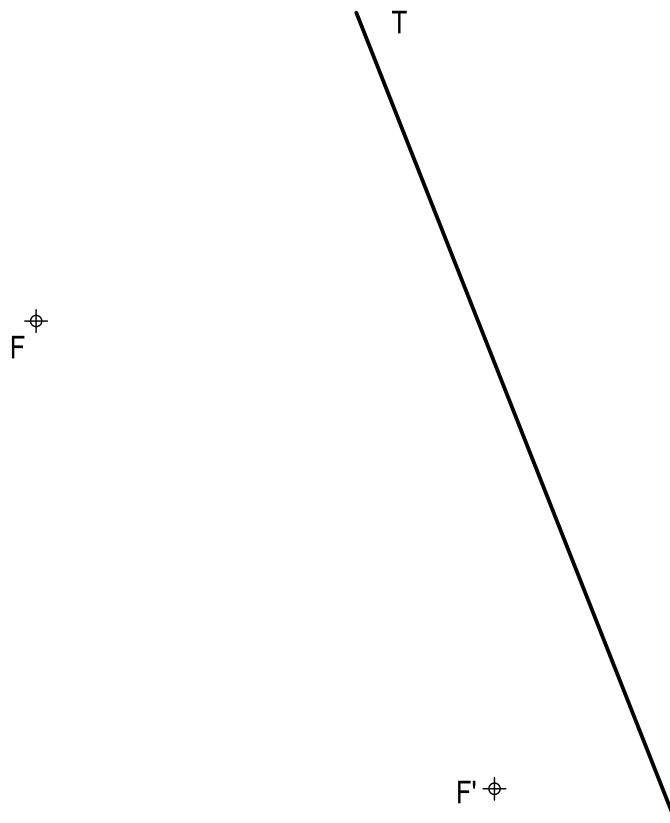
Apartado 1	0,50 puntos
Apartado 2	0,75 puntos
Apartado 3	0,50 puntos
Apartado 4	1,00 puntos
Apartado 5	1,00 puntos
Apartado 6	0,25 puntos
Puntuación máxima	4,00 puntos

OPCIÓN A

EJERCICIO 1º: TRAZADO GEOMÉTRICO.

Dados los focos F y F' de una elipse y una recta T tangente a la misma, se pide:

1. Obtener el punto de tangencia en T .
2. Determinar los ejes de la elipse.
3. Dibujar la cónica.



Puntuación:

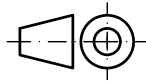
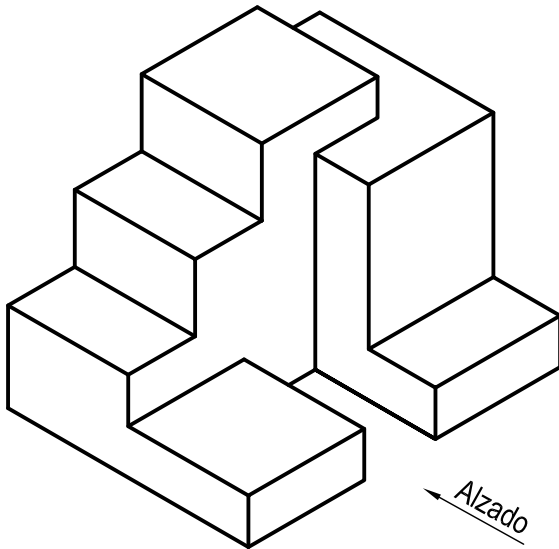
Apartado 1	0,50 puntos
Apartado 2	1,00 puntos
Apartado 3	1,50 puntos
Puntuación máxima	3,00 puntos

OPCIÓN A

EJERCICIO 2º: NORMALIZACIÓN Y DOCUMENTACIÓN.

Dada la perspectiva isométrica de una pieza a escala 1:1, se pide:

1. Dibujar alzado y planta a escala 5:6, según el método de representación del primer diedro de proyección.
2. Acotar las vistas según normas.



Puntuación:

Aplicación escala	0,25 puntos
Aplicación coeficiente	0,25 puntos
Representación alzado	0,75 puntos
Representación planta	0,75 puntos
Acotación	1,00 puntos
Puntuación máxima	3,00 puntos



UNIVERSIDAD DE GRANADA
PRUEBA DE ACCESO Y ADMISIÓN A LA UNIVERSIDAD
TERRITORIO DEL MINISTERIO DE EDUCACIÓN
CULTURA Y DEPORTE

CURSO 2016 - 2017

DIBUJO TÉCNICO II

Nº de Orden APELLIDOS Y NOMBRE: _____
 D.N.I.: _____ Centro: _____
 Sede nº: _____ de la Universidad de _____
 Fecha: En _____ a _____ de _____ de 2017

(cumplimentar tribunal)

Código de identificación

(a cumplimentar por el alumno)

OPCIÓN B

Nº de Orden (cumplimentar tribunal)	CALIFICACIÓN	REVISIÓN			Código de identificación
		2ª NOTA	3ª NOTA	CALIFICACIÓN	
CORRECTOR ⇒					(a cumplimentar por el alumno)

Instrucciones:

- a) Tiempo de duración de la prueba: 1 hora 30 minutos.
- b) El alumno elegirá y desarrollará en su totalidad una de las dos opciones. En ningún caso podrá combinar ambas opciones.
- c) Los problemas y ejercicios deben resolverse exclusivamente en los formatos facilitados, realizando cada uno de ellos en su correspondiente hoja.
- d) La puntuación total y las correspondientes a los distintos apartados, si los hubiere, están indicadas en cada uno de los respectivos problemas y ejercicios.
- e) La ejecución del dibujo se hará únicamente con lápiz de grafito, pudiéndose usar distintos grosores y durezas de minas.
- f) Para la realización de la prueba el alumno utilizará, como mínimo, el siguiente material de dibujo:
 - Lápices de grafito o portaminas.
 - Afilaminas.
 - Goma de borrar.
 - Escuadra y cartabón.
 - Regla graduada o escalímetro.
 - Compás.
- g) Además de los útiles mencionados, se permitirá el uso de plantillas, transportador de ángulos, un tablero tamaño A-3 con su correspondiente paralelógrafo y se permitirá el uso de calculadoras que no sean programables, gráficas ni con capacidad para almacenar o transmitir datos.



Nº de Orden APELLIDOS Y NOMBRE: _____
D.N.I.: _____ Centro: _____
Sede nº: _____ de la Universidad de _____
Fecha: En _____ a _____ de _____ de 2017

(cumplimentar tribunal)

Código de identificación
o
Nº de identificación

(a cumplimentar por el alumno)

OPCIÓN B

Nº de Orden	CALIFICACIÓN	DOBLE CORRECCIÓN			RECLAMACIÓN		Código de identificación
		2ª NOTA	3ª NOTA	CALIFICACIÓN	2ª NOTA	CALIFICACIÓN	
(cumplimentar tribunal)							
CORRECTOR →							(a cumplimentar por el alumno)

Instrucciones:

- Tiempo de duración de la prueba: 1 hora 30 minutos.
- El alumno elegirá y desarrollará en su totalidad una de las dos opciones. En ningún caso podrá combinar ambas opciones.
- Los problemas y ejercicios deben resolverse exclusivamente en los formatos facilitados, realizando cada uno de ellos en su correspondiente hoja.
- La puntuación total y las correspondientes a los distintos apartados, si los hubiere, están indicadas en cada uno de los respectivos problemas y ejercicios.
- La ejecución del dibujo se hará únicamente con lápiz de grafito, pudiéndose usar distintos grosores y durezas de minas.
- Para la realización de la prueba el alumno utilizará, como mínimo, el siguiente material de dibujo:
 - Lápices de grafito o portaminas.
 - Afilaminas.
 - Goma de borrar.
 - Escuadra y cartabón.
 - Regla graduada o escalímetro.
 - Compás.
- Además de los útiles mencionados, se permitirá el uso de plantillas, transportador de ángulos, un tablero tamaño A-3 con su correspondiente paralelógrafo y se permitirá el uso de calculadoras que no sean programables, gráficas ni con capacidad para almacenar o transmitir datos.

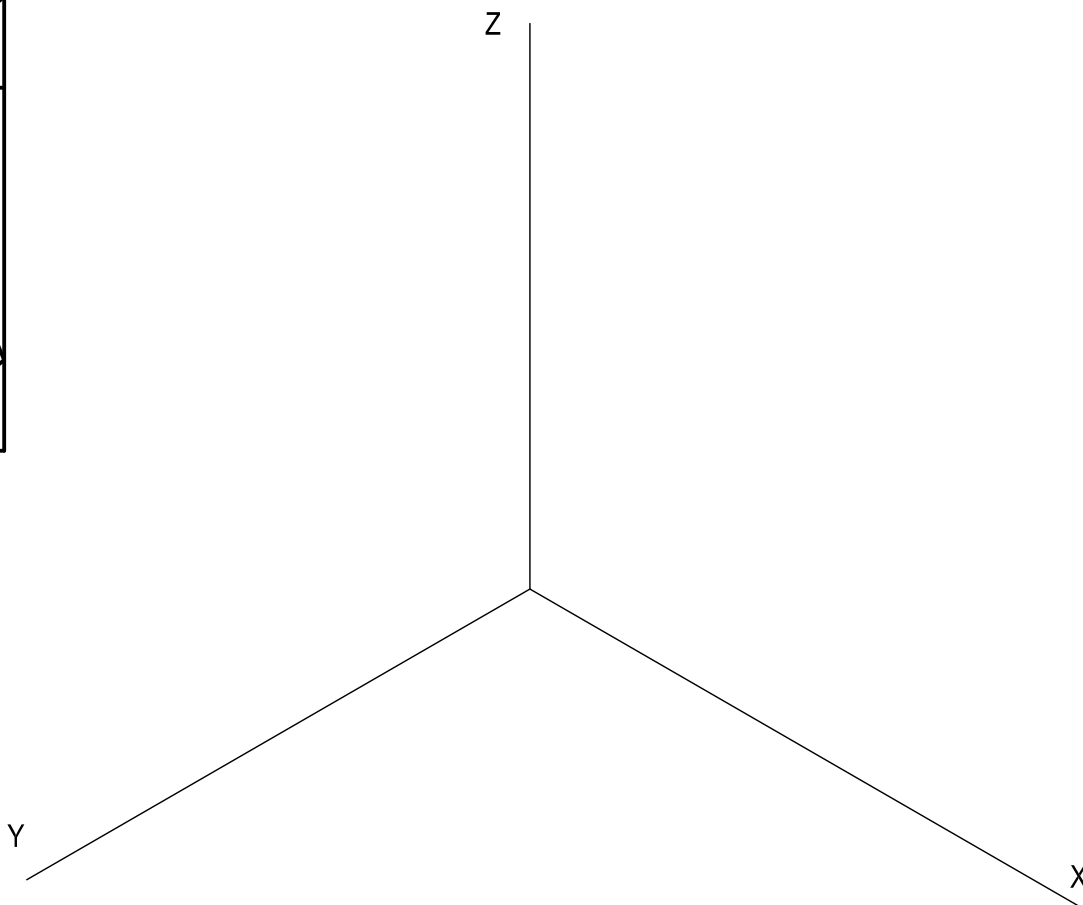
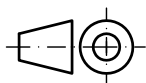
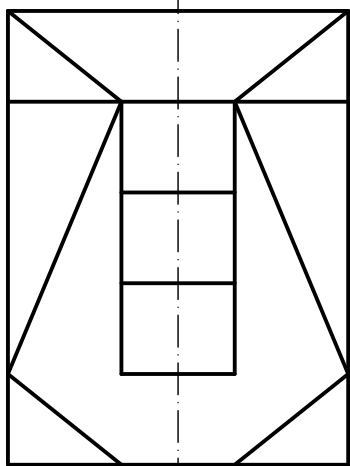
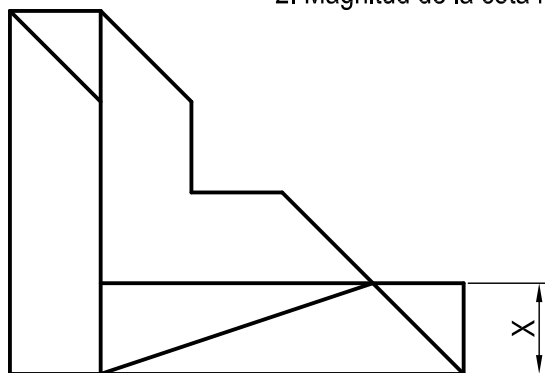
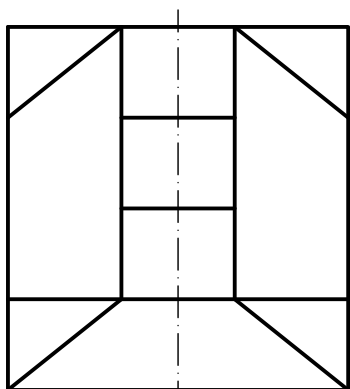
OPCIÓN B

PROBLEMA: SISTEMA AXONOMÉTRICO.

Dados alzado, planta y perfil de una pieza a escala 3:5, según el método de representación del primer diedro de proyección, se pide:

1. Dibujar su perspectiva isométrica a escala 1:1, según los ejes dados, representando las aristas ocultas.
2. Responda a este apartado en la línea que se indica debajo del perforado de la hoja.

2. Magnitud de la cota marcada con la letra X, _____ mm.



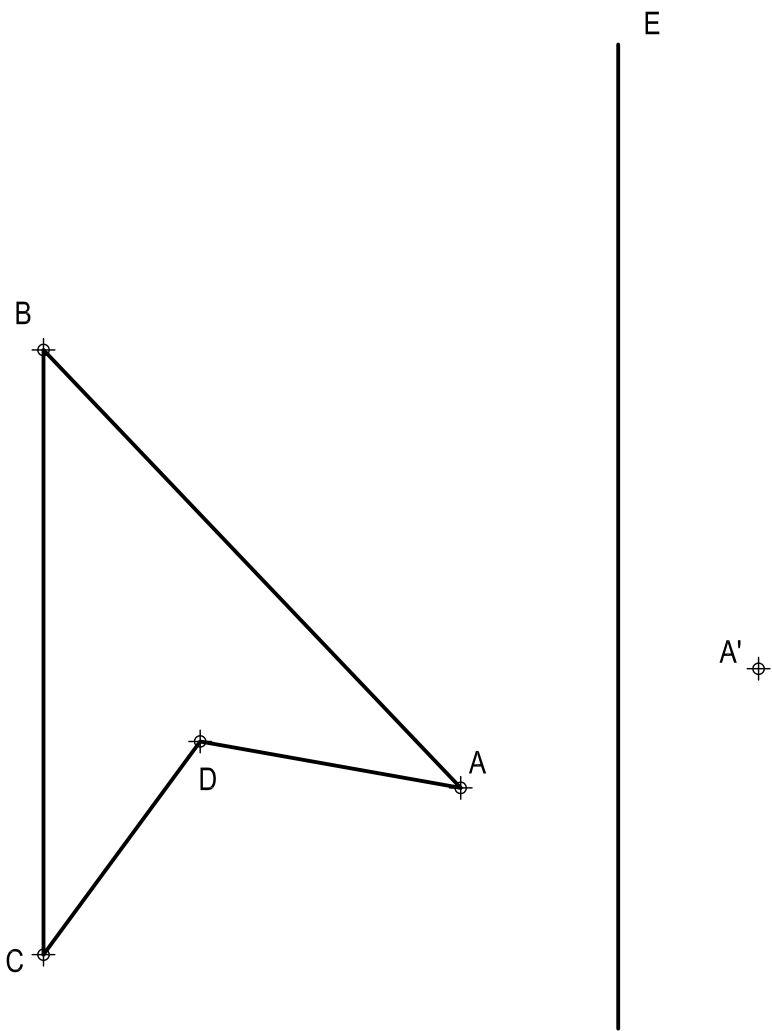
Puntuación:

Aplicación escala	0,25 puntos
Aplicación coeficiente	0,25 puntos
Volumen inferior	1,00 puntos
Volumen intermedio	1,00 puntos
Volumen superior	1,00 puntos
Aristas ocultas	0,25 puntos
Apartado 2	0,25 puntos
Puntuación máxima	4,00 puntos

OPCIÓN B

EJERCICIO 1º: TRANSFORMACIONES GEOMÉTRICAS.

Definida la homología afín por el par de puntos A-A' y el eje E, se pide:
Determinar la figura homóloga del polígono dado.



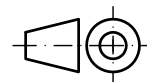
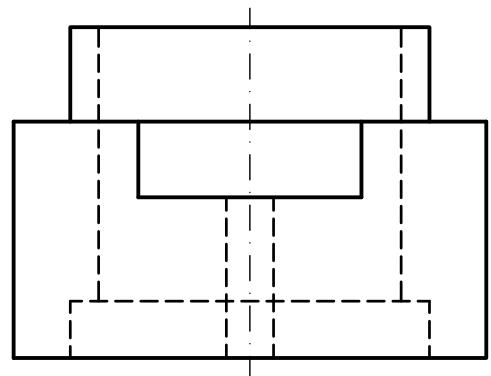
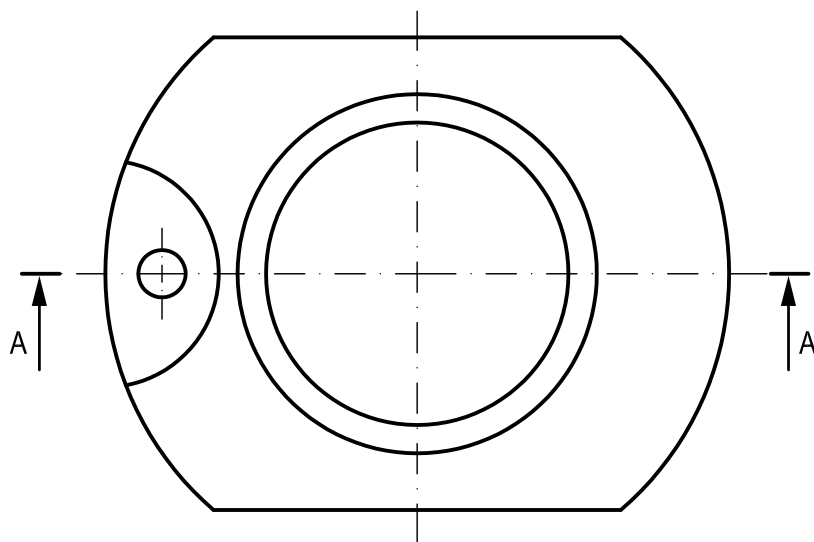
Puntuación:
Puntuación máxima 3,00 puntos

OPCIÓN B

EJERCICIO 2º: NORMALIZACIÓN Y DOCUMENTACIÓN.

Dados planta y perfil de una pieza a escala 5:4, según el método de representación del primer diedro de proyección, se pide:

1. Dibujar el corte A-A a escala 5:4.
2. Acotar según normas.



Puntuación:

Apartado 1

1,50 puntos

Apartado 2

1,50 puntos

Puntuación máxima

3,00 puntos